

2021 年度

国府台女子学院 中学部

第二回入試

社 会 (30 分)

【注 意】

1. この問題は「始め」の合図があるまで開いてはいけません。
2. **受験番号**は解答用紙の決められたところにはっきりと書いてください。
3. 問題を読むときに、声を出してはいけません。
4. 印刷が不鮮明ふせんめいでわからない場合や、その他わからないことがあった場合には、だまって手をあげ、先生にたずねてください。
5. **答えは、すべて解答用紙に記入してください。**
6. 解答は、適切な漢字をもちいて記入してください。

1 次の文を読んで、あとの問いに答えなさい。

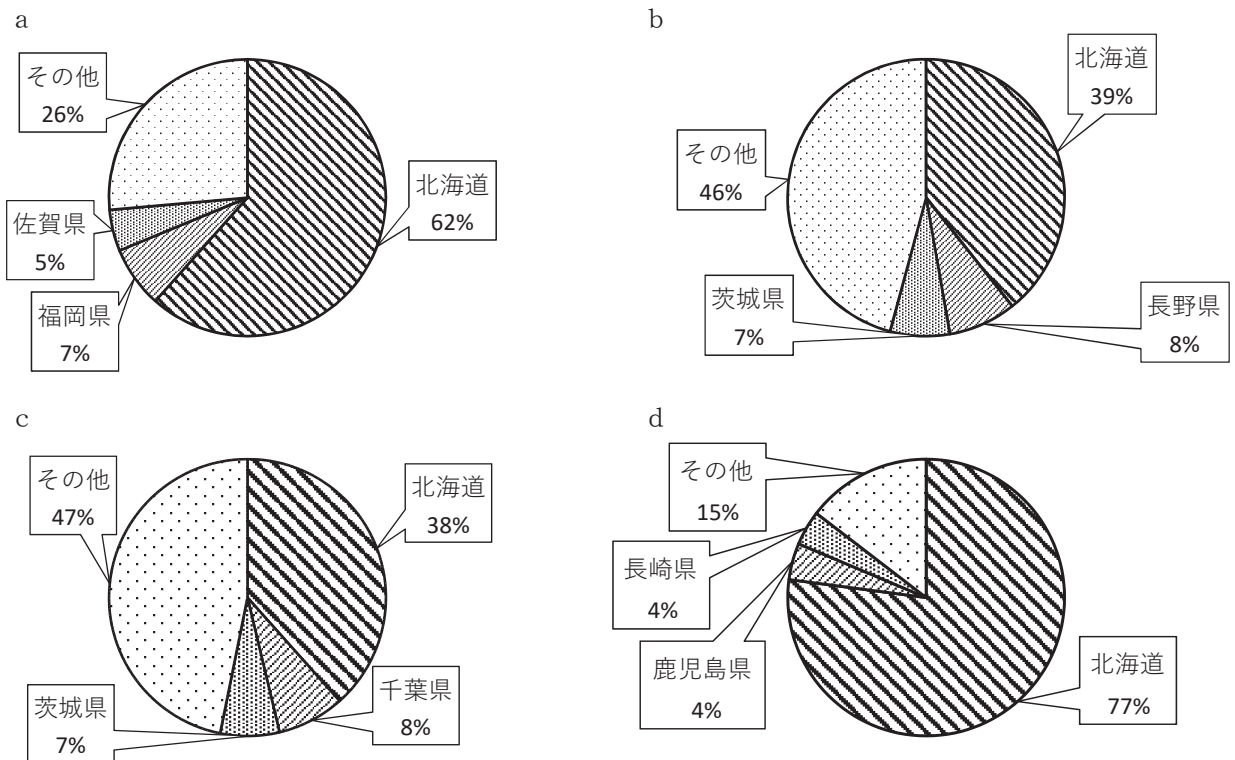
日本は、まわりを海に囲まれている島国であり、(A)北海道、本州、四国、九州の四つの大きな島と、そのほかの(B)多くの島々で成り立っています。

国土面積は、約38万km²ですが、海岸線の長さはアメリカ合衆国の約2万kmよりも長く、約3万kmもあります。それは大小さまざまな島々の、(C)海岸線が複雑な形になっているからです。

また、北海道から九州にかけて、(D)中央に背骨のように山脈や山地が連なっています。国土の4分の3は山地なので、(E)平地は多くありません。

日本は、太平洋で発生した台風の影響を受けやすく、(F)毎年大きな被害が起こります。また、6月中頃から7月にかけて、日本列島の大部分は雨雲におおわれ、梅雨の時期になります。昨年7月は、長期にわたり全国各地で大雨となり、とくに九州を中心に西日本から東日本にかけて、(G)河川の氾濫や決壊が起こり、多くの住宅が浸水・水没の被害にあいました。山地でも土石流や土砂災害などが起こり、広い範囲で人的被害が多く出ました。

(1) 下線部(A)について、次のa～dの農作物の生産量グラフは、北海道が生産量第1位のものです。グラフと農作物の組み合わせが正しいものを次のア～エから1つ選び、記号で答えなさい。



(出典：農林水産省平成30年度「作物統計」より作成)

- | | | | |
|---------------|------------|------------|------------|
| ア. a = そば | b = とうもろこし | c = じゃがいも | d = 小麦 |
| イ. a = 小麦 | b = そば | c = とうもろこし | d = じゃがいも |
| ウ. a = とうもろこし | b = じゃがいも | c = 小麦 | d = そば |
| エ. a = じゃがいも | b = 小麦 | c = そば | d = とうもろこし |

(2) 下線部(B)について、次の a～d の文は日本最端の島々の様子を述べたものです。文と島名の組み合わせが正しいものを下のア～エから 1 つ選び、記号で答えなさい。

- a. 1855年の日露和親条約によって日本領とされたが、太平洋戦争後にソ連によって占拠された。現在は、ロシアが引きついでいる。
- b. 気象庁の観測所や海上自衛隊の航空基地などが設置されている。近年、周辺の海底に大量のレアメタルが埋蔵されているとわかった。
- c. 東京都小笠原村に属し、亜熱帯に位置する島である。
- d. 最端の島々で唯一日本人による生活が営まれていて、郵便局や小学校などがある。

- ア. a—南鳥島 b—択捉島 c—与那国島 d—沖ノ鳥島
- イ. a—択捉島 b—沖ノ鳥島 c—南鳥島 d—与那国島
- ウ. a—南鳥島 b—与那国島 c—択捉島 d—沖ノ鳥島
- エ. a—択捉島 b—南鳥島 c—沖ノ鳥島 d—与那国島

(3) 下線部(C)について、多くの谷が刻まれた山地が、地盤の沈降または海面の上昇によって海に沈んでできた、複雑に入り組んだ海岸線を何とといいますか、答えなさい。

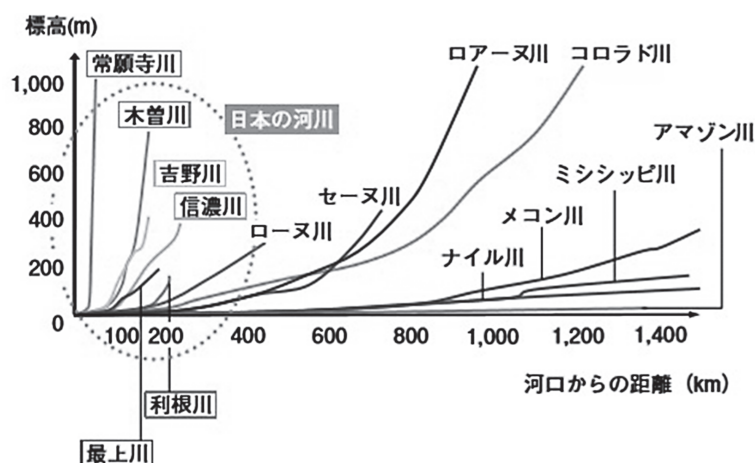
(4) 下線部(D)のうち、「日本の屋根」や「日本アルプス」とよばれている 3 つの山脈があります。これにあてはまらないものを次のア～エから 1 つ選び、記号で答えなさい。

- ア. 赤石山脈 イ. 飛驒山脈 ウ. 越後山脈 エ. 木曾山脈

(5) 下線部(E)について、日本で最も広い平野を答えなさい。

(6) 下線部(F)について、国土地理院は2019年3月に、過去の自然災害の記録を刻んだ各地の石碑や供養塔の場所が一目で分かるよう、「自然災害伝承碑」の地図記号を新たに制定しました。その地図記号を描きなさい。

(7) 下線部(G)について、下の図は、日本の河川と外国の河川の比較をしたものです。日本の河川の特徴を「日本の川は」につづけて、答えなさい。



(国土交通省 河川データブック 2020 より)

② 次の文を読んで、あとの問いに答えなさい。

私たちの日々の生活の中で、「ゴミ」は必ず出ます。環境省によると、2017年における日本全国のゴミの総排出量は4,289万トン(東京ドーム約115杯分)で、1人1日あたりでは920gあったそうですが、総排出量と1人あたりの排出量はともに減少傾向にあります。

ゴミのうち半分は食品廃棄物です。これを減らすことは、ゴミ全体を減らすことにつながります。そこで、2019年5月、「(あ)削減推進法」が成立しました。

近年特に大きな問題になっているのがプラスチックゴミです。プラスチックゴミは適切に回収・処理されなければ、何百年もの間、水路や川・海の生態系に影響を及ぼします。そこで政府は、プラスチック資源をより有効に活用する必要があるとして、2020年7月から「(い)有料化」を義務とし、私たちの環境に対する意識を高めようとしています。

また、循環型社会をつくる動きもみられます。循環型社会では、「ゴミを減らす=(う)」、「ものを何回も使う=(え)」、「ゴミを別な資源として再利用する=リサイクル」がすすめられています。リサイクルに関しては、(A)容器包装リサイクル法や(B)家電リサイクル法などの法律があり、再生紙を使ったトイレットペーパーなど、環境を意識している製品が多くあります。

(1) 空らん(あ)～(え)にあてはまる語句を答えなさい。

(2) 下線部(A)について述べた文a・bの正誤の組み合わせが正しいものを次のア～エから1つ選び、記号で答えなさい。

- a. 市町村が分別収集を徹底するので、消費者の取り組みについてはとくに定められていない。
b. 企業はその容器・包装を資源として再利用する義務がある。

ア. a=正 b=正 イ. a=正 b=誤 ウ. a=誤 b=正 エ. a=誤 b=誤

(3) 下線部(B)について、リサイクルの**対象にならない家電**を次のア～エから1つ選び、答えなさい。

ア. 炊飯器 イ. 冷蔵庫 ウ. エアコン エ. 洗濯機

3 以下の文を読んで、あとの問いに答えなさい。

人類が鉄を用い始めた歴史は古く、紀元前1500年頃に西アジアで初めて鉄の道具を使うようになったと考えられています。その後、鉄製品や製鉄法は世界各地に広がり、日本列島では縄文時代の終わりごろに鉄が伝わって、弥生時代後期には製鉄が開始されたと言われます。(A)古墳時代の各地の遺跡からは副葬品として鉄製の武器が見つかっています。

(B)平安時代には文学作品の中に鉄製品を使用している場面がしばしば描かれており、世間に普及していたことが分かります。平安時代後期から(C)鎌倉時代にかけて、武士による戦いが始まると、各地に日本刀づくりの名人があらわれ、戦い方や製鉄法の変化にともないさまざまな刀が作られるようになりました。

戦国時代には、大名たちが鉄資源をめぐって競い合い、製鉄技術の改良に力を入れました。この頃には鉄砲が伝来し、(D)南蛮貿易や国内での生産を通じて、国内に広まりました。1575年には織田信長・徳川家康連合軍が(あ)の戦いで大量の鉄砲を有効活用し、騎馬隊を中心とした武田軍を破る活躍を見せました。こうして戦国大名たちにとって鉄砲はなくてはならない武器になったのです。また、戦国大名の中には民衆から武器を取り上げ、支配を強めようとした者もいました。織田信長の家臣が、(E)一向一揆をしずめるため民衆から武器を取り上げたことや、1588年に豊臣秀吉が(い)令を出したことが有名です。

(F)江戸時代半ばになると、日本の伝統的な製鉄技術である「たたら製鉄」によって、良質な鉄が多く生産されるようになりました。幕末、(G)開国した江戸幕府は、外国の軍事力を実感し、大砲や軍艦を大量生産することが必要だと考え、西洋式の製鉄法を学びました。

(H)明治維新により新政府が確立されると、(I)文明開化が進み、日本の鉄鋼業は近代産業として歩み始めました。日清戦争後に福岡県に建設された官営の(う)は1901年から生産を始め、日本での西洋式鉄鋼生産はどんどん本格的になっていきます。その後、第二次世界大戦によって日本の鉄鋼業は大打撃を受けました。しかし、日本の鉄鋼業は(J)1950年代以降、諸外国との関わりを通じて次第に復興しました。やがて各地に最新式の設備を備えた大規模な製鉄所ができ、日本は世界有数の工業国となりました。

(K)1970年代の石油ショック以降は、鉄鋼業などの重化学工業から産業の転換が進み、先端技術産業などの新しい産業分野が発展しています。

(1) 文中の空らん(あ)～(う)にあてはまる語句を、それぞれ答えなさい。

(2) 下線部(A)について、古墳について述べた文 a・b の正誤の組み合わせとして正しいものを、次のア～エから 1 つ選び、記号で答えなさい。

a : 古墳のまわりには、土偶という人間や動物をかたどった土人形が並べられた。

b : 古墳は、豪族たちが自分たちの力を示すために作った墓である。

ア. a : 正 b : 正 イ. a : 正 b : 誤 ウ. a : 誤 b : 正 エ. a : 誤 b : 誤

(3) 下線部(B)について、平安時代の文学作品として **あやまっているもの** を次のア～エから 1 つ選び、記号で答えなさい。

ア. 枕草子 イ. 新古今和歌集 ウ. 土佐日記 エ. 源氏物語

(4) 下線部(C)について、鎌倉時代の政治について述べた次の文の空らん(①)・(②)にあてはまる語句をそれぞれ答えなさい。

鎌倉時代の将軍と御家人は、将軍から領地を^{あた}与えられる「(①)」と、有事には戦いに出るなどした「奉公」の関係から成り立っていました。御家人は地方で(②)や地頭の職につきました。(②)は国ごとに置かれ、警察のような仕事をしました。

(5) 下線部(D)について、ヨーロッパ諸国との貿易は17世紀初めに大きく変化しました。ヨーロッパ諸国との貿易に関係するできごとア～ウを、時代順に並び替えて記号で答えなさい。

ア. ポルトガル船の来航を禁止した。

イ. 九州で島原・天草一揆が起きた。

ウ. オランダ商人が長崎の出島に移された。

(6) 下線部(E)について、一向一揆は一向宗という仏教の宗派の信者が中心となって起こした一揆です。親鸞が開いた、一向宗ともよばれる宗派を何といいますか、答えなさい。

(7) 下線部(F)について、江戸時代に起こった政治改革について述べた文として正しいものを、次のア～エから1つ選び、記号で答えなさい。

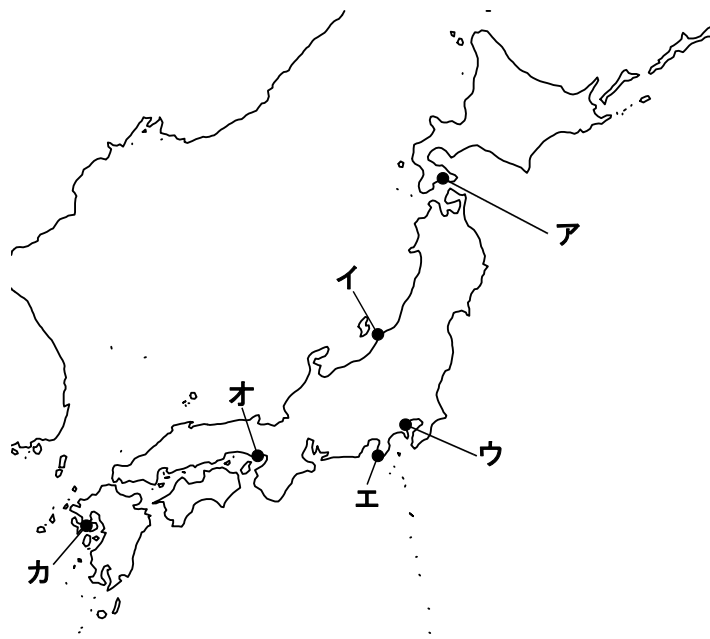
ア. 徳川吉宗は享保の改革を行い、裁判の公正をはかるためにそれまでの法令をまとめて武家諸法度を制定した。

イ. 田沼意次は、財政を立て直すため、上米の制を定めて大名に米を出させた。

ウ. 松平定信は、幕府の学校において朱子学以外の学問を禁止した。

エ. 水野忠邦は、天保の改革の中で、商人の経済力を利用して財政を豊かにしようと考え、株仲間を公認した。

(8) 下線部(G)について、1854年に結ばれた条約で開港された港を、下の地図中のア～カから**すべて**選び、記号で答えなさい。



(9) 下線部(H)について、次の史料は1868年に出された新政府の基本方針をわかりやすくしたものです。これを何というか答えなさい。

- 一．政治は広く会議を開き、みんなの意見を聞いて決めよう
- 一．みんなが心を合わせて新政策を行おう
- 一．みんなの志が実現できるようにしよう
- 一．これまでの悪いしきたりを改めよう
- 一．知識を世界に学び、国を栄えさせよう

(10) 下線部(I)について、この影響^{えいきやう}で1872年に初めて鉄道が開通しました。このとき開通した区間は、新橋駅とどこの駅の間ですか、駅名を答えなさい。

(11) 下線部(J)について、この時期は、高度経済成長期と重なります。この時の状況を説明している文 a・b の正誤の組み合わせが正しいものを次のア～エから 1 つ選び、記号で答えなさい。

a : 1950年代半ば以降、「三種の神器」と呼ばれた白黒テレビ・電気洗濯機・電気炊飯器が家庭に普及^{ふきゆう}していった。

b : 1960年には池田勇人内閣が「所得倍增計画」をすすめたこともあり、経済が急成長した。

ア． a : 正 b : 正 イ． a : 正 b : 誤 ウ． a : 誤 b : 正 エ． a : 誤 b : 誤

(12) 下線部(K)について、1970年代のできごとについて述べた文として正しいものを次のア～エから 1 つ選び、記号で答えなさい。

ア． 沖縄が日本に復帰した。

イ． 日韓基本条約を締結した。

ウ． 消費税が導入された。

エ． 東京でアジア初のオリンピックが開催^{かいさい}された。

4 次の文を読んで、あとの問いに答えなさい。

新型コロナウイルスは、日本社会に大きな影響を与えました。例えば、通勤を可能な限りさけるため、自宅で「テレワーク」を行う企業が増え、2019年4月の「(A)働き方改革関連法」の施行と合わせて、仕事のスタイルが大きく変わりました。しかし、テレワークの障害となったものが、(B)押印(ハンコ)の存在でした。

また、キャッシュレス化も推進されました。このキャッシュレス化を進めるために、(C)キャッシュレス決済を使用した時にポイントが還元される、マイナポイント制度も始まり、(D)マイナンバーカードの保有率も上がりました。

さらに、外出自粛の影響で経済が停滞し、多くの企業の収益が減りました。一方で、飲食業はデリバリーやテイクアウトなどを積極的に行ったため、自宅で食事をする人が増えました。

東京オリンピック・パラリンピックも(E)延期となりました。入国制限により外国人旅行客が激減し、国内でも外出自粛の要請が出されたため、観光地の企業や旅行関連会社の経営が危ぶまれました。このため政府はGoToトラベル事業などの景気刺激策を行い、立て直しを図りました。しかし、この事業を実施するにあたって、(F)政府と(G)地方公共団体の意見が食い違い混乱も起きました。新型コロナウイルス等対策特別措置法に基づいて緊急事態宣言が発せられたときも、政府と地方公共団体の間で対応が食い違うという問題が発生しました。今後、政府と地方公共団体の役割分担をきちんと見直す必要があるでしょう。

(1) 下線部(A)に関連した、次の問いに答えなさい。

- ① 労働時間や賃金などの労働条件の最低条件を定めた法律を何といいますか、答えなさい。
- ② 労働者の持つ「労働三権」について説明した次の文の空らん(i)・(ii)にあてはまる語句をそれぞれ答えなさい。

労働者は、「団結権」にもとづいて(i)を作ったり加入したりすることができます。また、「団体交渉権」にもとづいて、雇い主と交渉することもできます。さらに、「団体行動権」にもとづいて、雇い主に要求を認めさせるために、一時的に労働を行わないで抗議する(ii)を行うこともできます。

- ③ 働き方改革と合わせて、「仕事と生活の調和」を実現する取り組みも始まりました。この「仕事と生活の調和」は「ワーク・ライフ・()」とも呼ばれています。空らんにあてはまる語句をカタカナで答えなさい。

(2) 下線部(B)について、押印(ハンコ)を行政手続きの多くから無くそうとする取り組みが行われました。この取り組みを主導したのが、国务大臣の河野太郎氏でした。彼は何を担当する大臣ですか。次のア～エから1つ選び、答えなさい。

- | | |
|--------------|----------------|
| ア. 経済・財政政策担当 | イ. 行政改革担当 |
| ウ. 国防担当 | エ. 消費者及び食品安全担当 |

- (3) 下線部(C)について、キャッシュレス決済の中には、下の^ず図柄^{がら}のようなものを読み取り決済を行うものがあります。このような図柄をなんといいますか、答えなさい。



- (4) 下線部(D)について、この制度を取り仕切っている、地方自治や選挙などに関係する仕事を行う省庁はどこですか、次のア～エから1つ選び、記号で答えなさい。

ア. 厚生労働省 イ. 総務省 ウ. 経済産業省 エ. 財務省

- (5) 下線部(E)について、延期の決定は最終的に国際オリンピック委員会が行いました。この委員会の^{りやくしやう}略称をアルファベットで答えなさい。

- (6) 下線部(F)に関連した、次の問いに答えなさい

- ① 文中の空らん(i)・(ii)にあてはまる語句をそれぞれ答えなさい。

内閣不信任案が国会で可決された場合、内閣は(i)が解散されない限り、(ii)をしなければならない。

- ② 日本国憲法では、「内閣は、行政権の行使について、国会に対し連帯して責任を負う」とあります。このようなしくみを何といいますか、答えなさい。

- (7) 下線部(G)に関連して、次の問いに答えなさい。

- ① 地方自治体の首長や議員などの役職をやめさせるための、住民からの^{せいきゆう}請求を何といいますか、カタカナで答えなさい。

- ② 地方自治体の住民が行う住民運動として、「ナショナルトラスト運動」があります。この運動を説明した文として正しいものを次のア～エから1つ選び、記号で答えなさい。

ア. 住民が、自然^{かんきやう}環境や歴史的遺産を守るために、土地や建物を買ったりして保存する運動。

イ. 住民の立場で、行政を^{かんし}監視するための役職をおく運動。

ウ. 住民が、自分の生まれ育った地域や^{おうえん}応援したい地方自治体に寄付をすることを進める運動。

エ. 住民が、インターネットを活用して、公共のサービスに参加する仕組みを作る運動。

第二回入試 社会 解答用紙

1	(1)		(2)		(3)		(6)
	(4)		(5)				
	(7)	日本の川は,					

2	(1)	(あ)		(い)		(5)	
	(え)		(2)		(3)		

3	(1)	(あ)		(い)		(5)	
	(2)		(3)		(4)	①	②
	(5)	→ →		(6)			
	(7)		(8)		(9)		
	(10)		(11)		(12)		

4	(1)	①		②	i	ii	
	③		(2)		(3)		
	(4)		(5)				
	(6)	①	i	ii		②	
	(7)	①		②			

受験番号